

PRUEBA ACCESO A CICLOS FORMATIVOS DE GRADO SUPERIOR	Septiembre 2014 OPCIÓN A: GEOGRAFÍA
------------------------------------------------------------	----------------------------------------

DATOS DEL ASPIRANTE	CALIFICACIÓN PRUEBA	
Apellidos:	Nombre:	
D.N.I. o Pasaporte:	Fecha de nacimiento: / /	

Instrucciones:

- **Lee atentamente las preguntas antes de contestar.**
- **La puntuación máxima de cada pregunta está indicada en cada enunciado.**
- **Revisa cuidadosamente la prueba antes de entregarla.**

1. Completa el esquema sobre las diferentes unidades del relieve español en función de la situación que ocupan respecto a la Meseta Central según corresponda: (2,75 puntos, 0,25 cada unidad correcta)

Cordilleras exteriores a la Meseta	1..... 2..... 3.....
Depresiones exteriores a la Meseta	1..... 2.....
Unidades interiores a la Meseta	1..... 2.....
Unidades que bordean la Meseta	1..... 2..... 3..... 4.....

2. Lee el texto sobre tipo de climas en España y completa los huecos según corresponda con los conceptos que se te ofrecen. (1 punto)

Conceptos	Oceánico, sequía estival, alta, mediterráneo, clima subtropical, irregularidad, regularidad, altitudes, suaves, diversidad-
------------------	-----------------------------------------------------------------------------------------------------------------------------

“Tipos de clima en España”

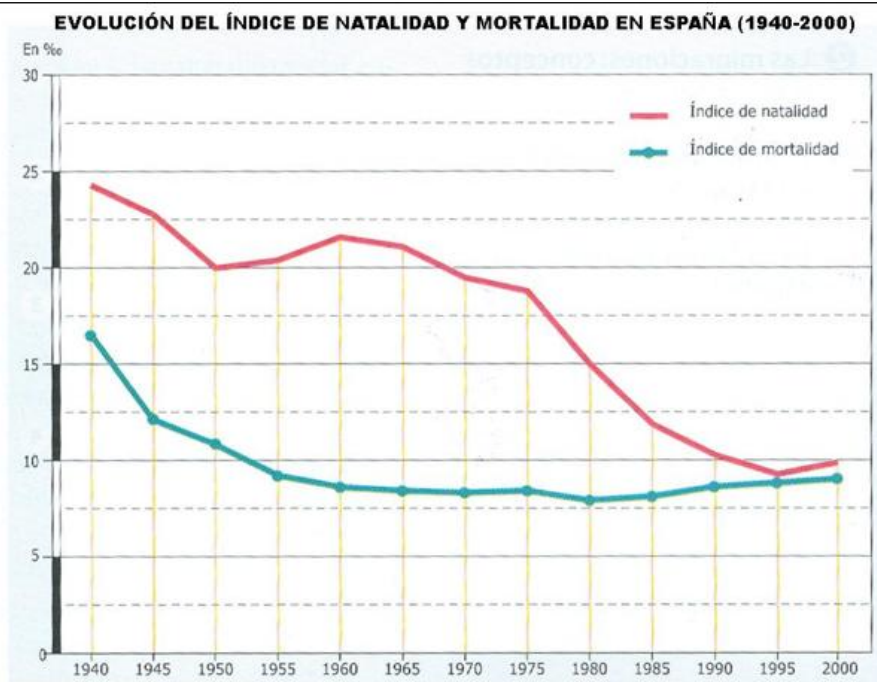
En España encontramos una importante climática.

El clima que ocupa la mayoría del territorio es el....., que se presenta en dos subtipos, el marítimo y el de interior. En ambos casos se da una pronunciada en las precipitaciones y una acusada....., con numerosos meses secos. En primero de ellos la oscilación térmica anual es más..... que en el segundo.

Se distingue un tipo que es el llamado clima....., cuyas características sonen las precipitaciones a lo largo del año y temperaturas como consecuencia de la influencia del mar. En el archipiélago canario encontramos el llamado....., que se distingue por una temperatura muy regular durante todo el año.

Y por último, se da el clima de montaña, propio de elevadas.

3. Observa el gráfico sobre la evolución del índice de natalidad y mortalidad en España (1940-2000) y responde a las cuestiones que se plantean a continuación. (3 puntos)






A. Describe cuál es la tendencia del índice de natalidad entre 1950 y 1960 y expón las causas que lo explican. (1 punto)

B. Describe cuál es la tendencia del índice de mortalidad desde 1985 hasta el año 2000 y expón las causas que lo explican. (1 punto)

C. ¿Cómo es el crecimiento natural en España en 1960? ¿Y en 1995? Justifica las respuestas. (1 punto)

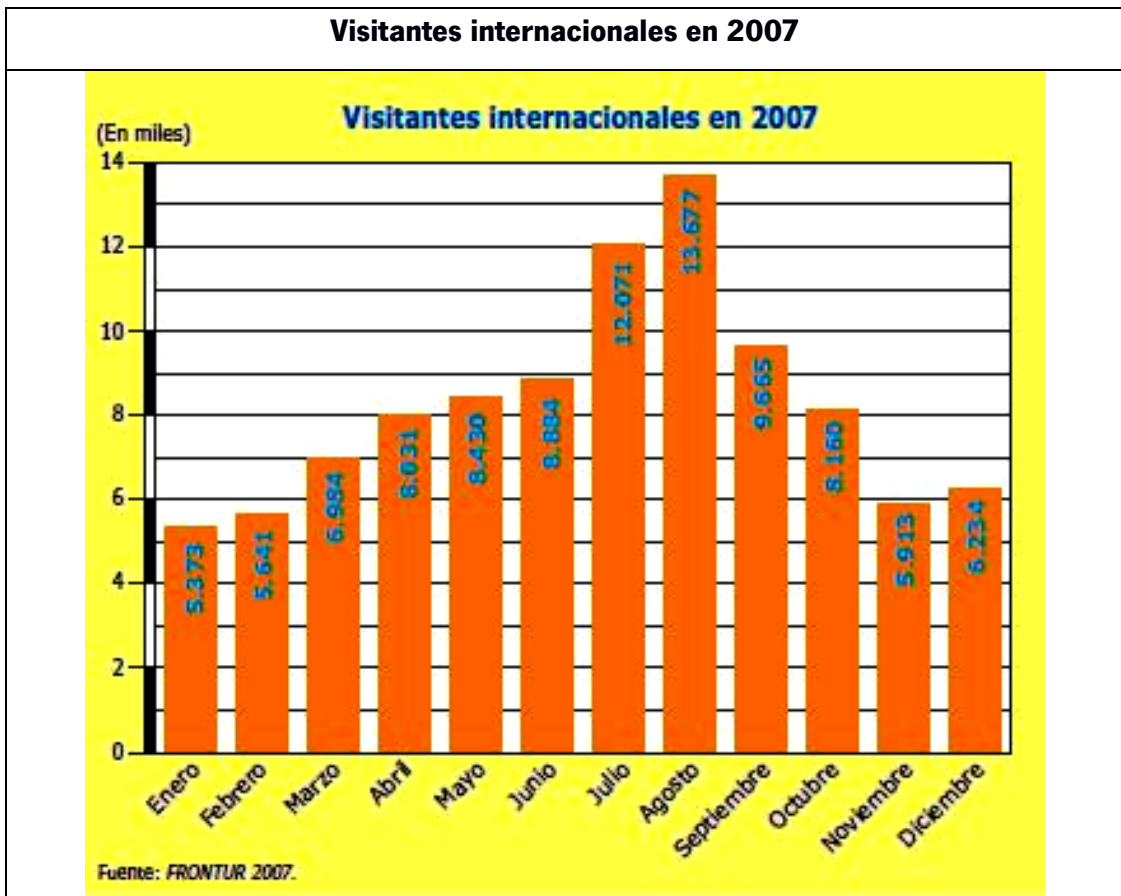
4. Observa las imágenes que representan los distintos tipos de planos. (2,25 puntos)

TIPO 1	TIPO 2	TIPO 3
		

A. Escribe el nombre que corresponda con cada tipo: (0,75 puntos)

B. Describe las características principales en cada caso. (1,5 puntos)

5. Observa el gráfico que refleja el número de visitantes internacionales en 2007 y contesta a las siguientes cuestiones. (1 punto)



- A.** ¿En qué meses vienen a España mayor número de extranjeros?
- B.** ¿A qué se debe este comportamiento?
- C.** ¿Qué consecuencias tiene para este sector estos datos que observas?
- D.** ¿Qué alternativas se están desarrollando para tratar de paliar dichos problemas?